

CE2

Mardi 2 juin

n°1 p 140 :

de hauts immeubles
des piés barbares
des pluies torrentielles

Écris les groupes nominaux au pluriel :

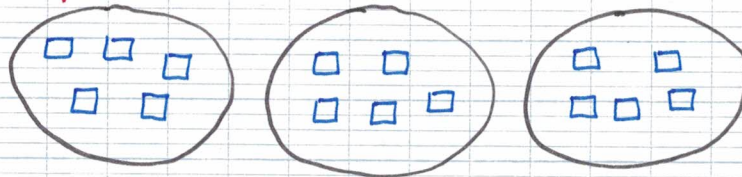
- une bouteille vide -> des bouteilles vides
- un journal local -> des journaux locaux
- une cerise rouge -> des cerises rouges
- la petite maison -> les petites maisons
- un signal lumineux -> des signaux lumineux
- une pierre précieuse -> des pierres précieuses
- ce long voyage -> ces longs voyages
- un coût total -> des coûts totaux
- un plat régional -> des plats régionaux
- mon nouveau vélo -> mes nouveaux vélos

"Cherchons ensemble" p 86 :

$$24 = 6 \times 4$$

Il peut faire 4 équipes de 6 élèves.


n°1 p 86 :



$$15 = 3 \times 5$$

Chaque enfant aura 5 biscuits.

n°3 p 86:



$$15 = 5 \times 3$$

Chaque enfant aura 3 biscuits.

n°4 p 86:

$$30 = 6 \times 5$$

Chaque pirate aura 5 pièces.

Jeudi 4 juin

n°17 p 163:

- a) défaire - parapluie - maladroit - instable
b) préhistoire - déminer - injuste - retrouver

n°21 p 163:

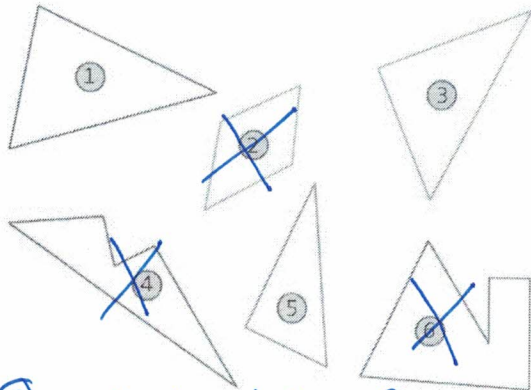
impoli ou malpoli
incorrect
incroyable
désaccordé
inadmissible

n°23 p 163:

fleuriste - dentiste - charcutier - écrivain -
parfumeur - dessinateur - vendeur -
enseignant -

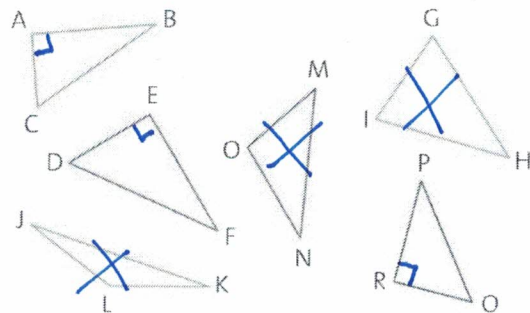
Jeudi 4 juin

1 * Parmi ces polygones, indique ceux qui sont des triangles.



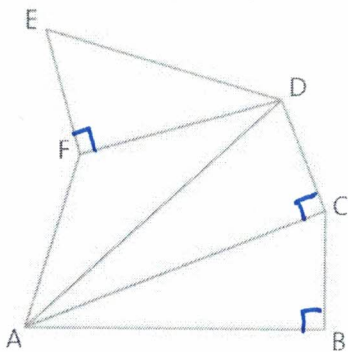
①③⑤ sont des triangles

2 * a. Parmi ces triangles, indique ceux qui sont des triangles rectangles.
b. Nomme-les.
c. Donne le nom de l'angle droit.



ABC, DEF, PQR sont des triangles rectangles

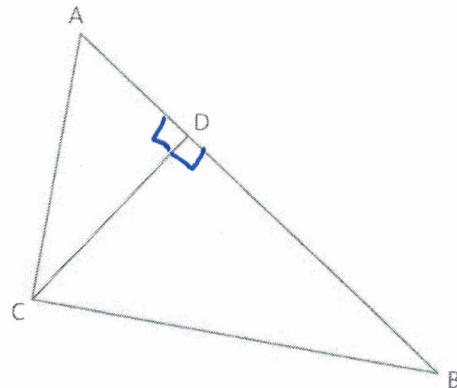
3 * Nomme tous les triangles de cette figure et trouve les triangles rectangles.



Les triangles sont : EDF, AFD, ADC, ACB

Les triangles rectangles sont : EDF, ADC et ACB .

4 * a. Observe cette figure et nomme tous les triangles.
b. Marque les angles droits.



Les triangles sont : ADC, CDB et ABC .

Vendredi 5 juin

n°3 p 75:

- a) J' étais ici et toi tu étais là-bas.
b) Elle était loin et nous, nous étions tout près.
c) Vous étiez là-bas, mais eux étaient plus loin.
eux = plusieurs personnes
= ils
d) Ils étaient à droite et elles étaient à gauche.

n°5 p 75:


- a) J' avais une maison et toi tu avais un igloo.
b) Il avait une tente et nous avions un tipi.
c) Vous aviez une isba et elles avaient une caravane.
d) Tu avais un château, nous avions un appartement.
e) On avait froid, ils avaient un feu pour se réchauffer.

n°7 p 37:


450 000	- 456 908 -	460 000
40 000	- 43 900 -	50 000
980 000	- 983 123 -	990 000
80 000	- 87 001 -	90 000
160 000	- 169 345 -	170 000
90 000	- 99 456 -	100 000

900 000 - 908 123 - 910 000
280 000 - 283 880 - 290 000
40 000 - 45 001 - 50 000


CE2 Vendredi 5 juin




matin: 7h 45
AM: 19h 45




matin: 8h 15
AM: 20h 15




matin: 6h 45
AM: 18h 45




matin: 2h 15
AM: 14h 15




matin: 3h 15
AM: 15h 15




matin: 4h 45
AM: 16h 45



matin: 11h 45
AM: 23h 45



matin: 12h 15
AM: 00h 15



matin: 9h 45
AM: 21h 45