

CE1

Lundi 25 mai

- 1) Le papa fait disparaître la télévision car les enfants ne font pas leurs devoirs, ne jouent plus dehors et ne rangent pas leurs chambres.
- 2) Il a rapporté plein de livres intéressants.
- 3) Elle a trouvé des jeux de société.
- 4) Les enfants étaient abattus parce que leur télévision avait été vendue.
- 5) Il a acheté du bois, des cordes et des outils pour construire une cabane.
- 6) télévision - on - font - maison - compte - complit - collection - leçon - garçons - fond - alors - monde - construire -

Ecris ces noms au masculin ou au féminin :

un musicien - une musicienne

... un chien - une chienne

un magicien - une magicienne

un Australien - une Australienne

... un Italien - une Italienne

un gardien - une gardienne

n°4 p 39:

$$948 = 900 + 40 + 8$$

$$948 = (9 \times 100) + (4 \times 10) + 8$$

$$716 = 700 + 10 + 6$$
$$716 = (7 \times 100) + (1 \times 10) + 6$$

$$649 = 600 + 40 + 9$$
$$649 = (6 \times 100) + (4 \times 10) + 9$$

$$910 = 900 + 10$$
$$910 = (9 \times 100) + (1 \times 10)$$

$$860 = 800 + 60$$
$$860 = (8 \times 100) + (6 \times 10)$$

$$500 = (5 \times 100)$$

n°5 p 39:

- a) 895 - 896 - 897 - 898 - 899 - 900 - 901
- b) 603 - 602 - 601 - 600 - 599 - 598 - 597

Mardi 26 mai

tes ongles
une ombrelle
un cochon
la confiture
un lion

Ecris ces noms au masculin ou au féminin :

un charcutier - une charcutière

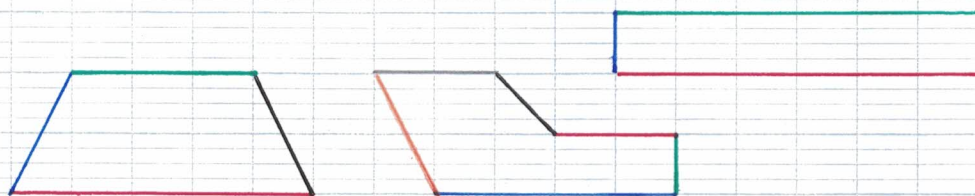
un boulanger - une boulangère

un pâtissier - une pâtissière

un sorcier - une sorcière

un ouvrier - une ouvrière

un banquier - une banquière



n°2 p 87:

Figures	1	2	3	4
Nombre de côtés	4	5	3	6
Nombre de sommets	4	5	3	6
Nombre d'angles droits	4	1	1	0

Vendredi 29 mai

une ombre
Elle chante
un angle

un champignon
un pompier
Elle a perdu

$$3 \times 10 = 30$$

$$9 \times 10 = 90$$

$$2 \times 10 = 20$$

$$17 \times 10 = 170$$

$$54 \times 10 = 540$$

Lire l'heure (1)

Découvrons ensemble

Construis une horloge avec le matériel de la page .

Coche la bonne réponse.

La petite aiguille indique les heures.

oui non

La grande aiguille indique les minutes.

oui non


La grande aiguille fait un tour de cadran en 1 heure et la petite aiguille en 12 heures.




Lis les horaires des spectacles ci-dessous.

Écris le numéro du spectacle sous l'horloge correspondante.


Spectacles	Horaires
① Les Trois Mousquetaires	9 h 30
② L'Attaque des Vikings	10 h 00
③ Le Bal des fantômes	11 h 30
④ La Lance magique	12 h 00




2



1







4



3

Je m'entraîne

1 Relie chaque horloge au réveil qui indique la même heure.



10:30

6:30


8:00

9:30




10:30, c'est 10 h 30 ou 10 heures et demie.

2 Écris l'heure sous chaque horloge.




7 h




2 h 30

3 Problème
Max peut-il entrer dans la bibliothèque?
Observe et coche la bonne réponse.



oui non

BIBLIOTHÈQUE 

Ouverture de 9 h 30 à 12 h 00

Il est 12 h 30.
La bibliothèque ferme à 12 h 00.