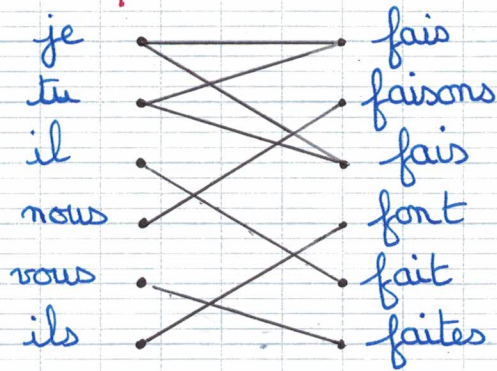


CE1

Lundi 27 avril

n°2 p 44 :



$$7 + 5 = 12 \text{ donc } 12 - 7 = 5$$

$$9 + 4 = 13 \text{ donc } 13 - 9 = 4$$

$$8 + 3 = 11 \text{ donc } 11 - 8 = 3$$

$$6 + 4 = 10 \text{ donc } 10 - 6 = 4$$

$$7 + 7 = 14 \text{ donc } 14 - 7 = 7$$

$$9 + 2 = 11 \text{ donc } 11 - 9 = 2$$

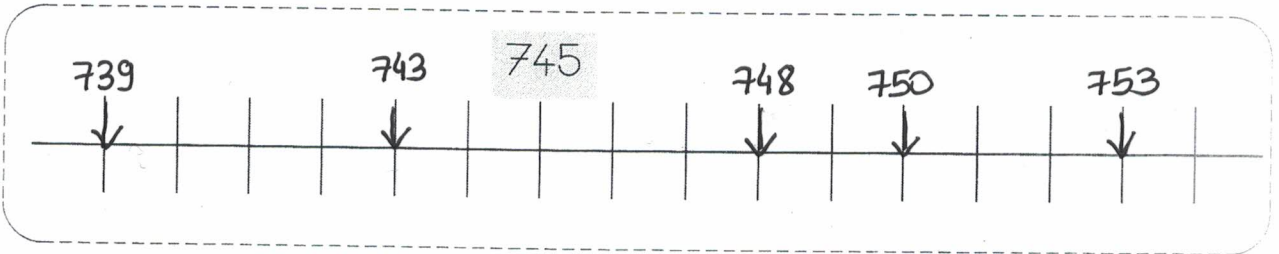


Numération

Les nombres de 100 à 799

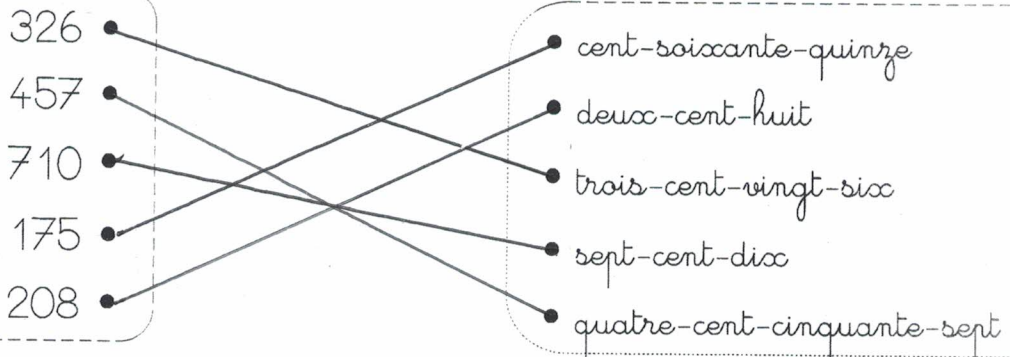
1 Place les nombres suivants sur la ligne graduée :

748 - 739 - 750 - 753 - 743



2

Relie les nombres écrits en chiffres à leur écriture en lettres.



3

Écris ces nombres en lettres.

620 : six cent vingt

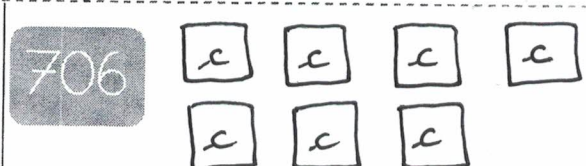
700 : sept cents

215 : deux cent quinze



4

Dessine le bon nombre de centaines, de dizaines et d'unités.



Mardi 28 avril

Choisis un déterminant pour chaque nom. Entoure M si le nom est masculin.
Entoure F si le nom est féminin.

<u>une</u> trousse	M - <u>F</u>	<u>un</u> soleil	<u>M</u> - F	<u>un</u> cartable	<u>M</u> - F
<u>une</u> école	M - <u>F</u>	<u>une</u> planète	M - <u>F</u>	<u>un</u> goûter	<u>M</u> - F
<u>une</u> étoile	M - <u>F</u>	<u>un</u> dinosaure	<u>M</u> - F	<u>une</u> princesse	M - <u>F</u>

$$7 + 6 = 13 \text{ donc } 13 - 7 = 6$$

$$9 + 3 = 12 \text{ donc } 12 - 9 = 3$$

$$5 + 6 = 11 \text{ donc } 11 - 5 = 6$$

$$8 + 2 = 10 \text{ donc } 10 - 8 = 2$$

$$6 + 8 = 14 \text{ donc } 14 - 6 = 8$$

$$8 + 7 = 15 \text{ donc } 15 - 8 = 7$$

n°1:

$$\begin{array}{r} \textcircled{1} \\ 14 \\ + 17 \\ \hline 31 \end{array}$$

Bela fait 31 fleurs.

n°2:

$$\begin{array}{r} 87 \\ - 23 \\ \hline 64 \end{array}$$

Il lui reste 64 images.

n°3:

$$\begin{array}{r} 259 \\ - 48 \\ \hline 211 \end{array}$$

Il lui reste 211 perles.