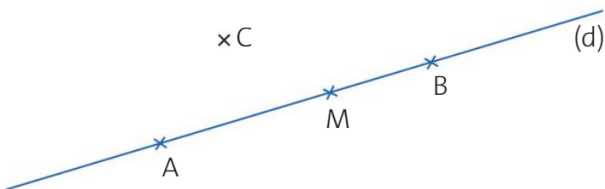
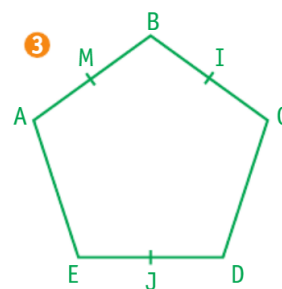
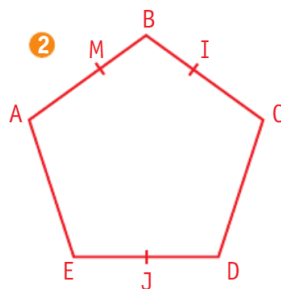
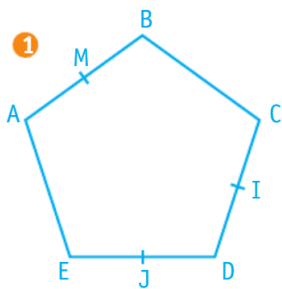


**4** \* Observe la figure et réponds aux questions



- Donne le nom de la droite
- Donne le nom des points placés sur la droite.
- Le point C est-il sur la droite ?
- Les points A, M et B sont-ils alignés ?

**7** \* J'ai 5 côtés et 5 sommets. M est le milieu du segment [AB]. I est le milieu du segment [BC]. J est le milieu du segment [DE]. **Qui suis-je ?**



- 7** \* a. Marque un point A sur une feuille blanche.
- b. Trace à la règle une droite passant par le point A puis place un point B sur la droite obtenue.
- c. Où faut-il placer le point C pour que les points A, B et C soient alignés ?