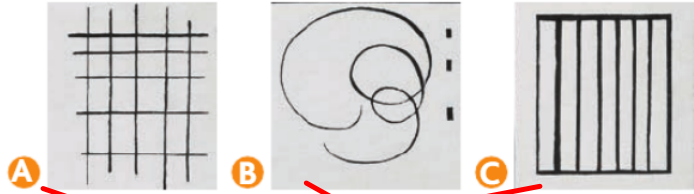


Cherchons



Kandinsky, Trente.

Voici trois détails d'un tableau de Kandinsky :



● Associe-les à la bonne description

6 segments à l'intérieur d'un rectangle

5 droites qui croisent 5 autres droites en formant des angles

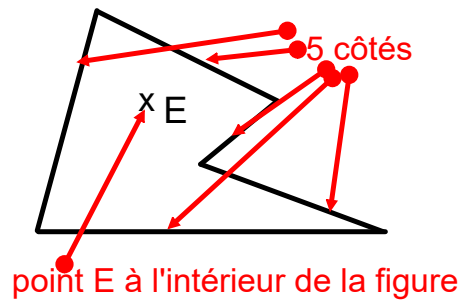
3 points et une ligne courbe

Exercices

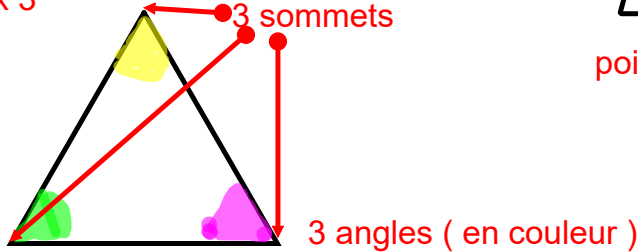
2 Trace une figure qui a 5 côtés et place un point E à l'intérieur de la figure.

3 Trace une figure qui a 3 sommets. Colorie chaque angle d'une couleur différente.

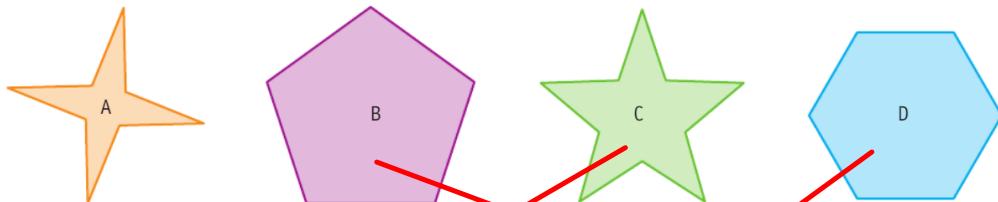
Ex 2 (exemples de figures)



Ex 3 3 sommets



5 Retrouve la figure de chaque élève.



Rémi
Ma figure a 10 côtés.



Jade
Ma figure a 6 angles.



Lisa
Ma figure a 5 sommets.