
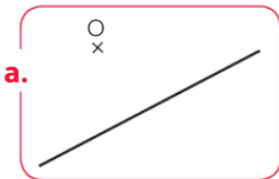


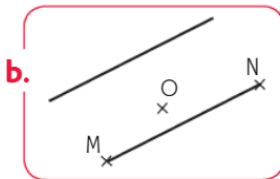
1 Trace :

- une droite verte ;
- un segment $[AB]$ qui coupe la droite ;
- un point C au-dessus du segment ;
- un point D au-dessous du segment.

**2** Redonne à chaque enfant sa fiche de travail.

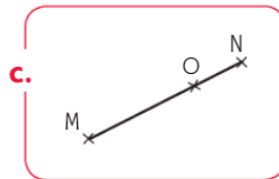
Trace un segment $[MN]$ et place un point O sur ce segment.

Rémi



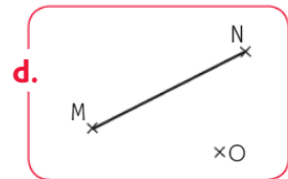
Trace un segment $[MN]$ et place un point O au-dessous de ce segment.

Nabil



Trace une droite et un segment $[MN]$ et place un point O entre la droite et le segment.

Lisa



Trace une droite et place un point O au-dessus de cette droite.

Jade