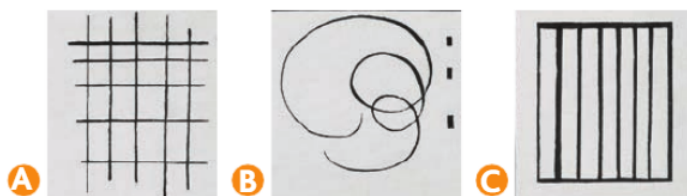


Cherchons



Kandinsky, *Trente*.

Voici trois détails d'un tableau de Kandinsky :



- Associe-les à la bonne description.

6 segments à l'intérieur
d'un rectangle

5 droites qui croisent 5 autres
droites en formant des angles

3 points et une
ligne courbe

Je retiens

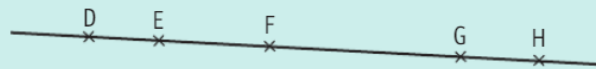
- Voici un **point** A :

× A

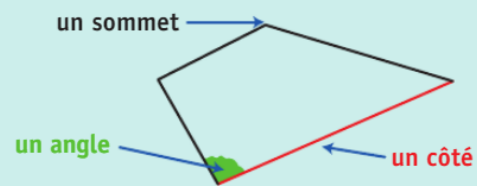
- Un **segment** est une ligne droite qui **relie deux points**. Il se note [BC].



- Une **droite** est une ligne qui passe par un très grand nombre de points et **ne se termine jamais**.



- Voici une **figure plane** :

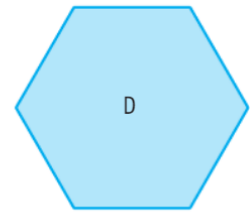
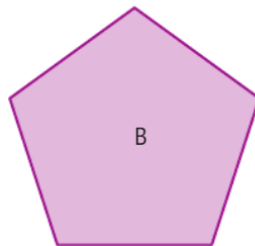


Exercices

2 Trace une figure qui a 5 côtés et place un point E à l'intérieur de la figure.

3 Trace une figure qui a 3 sommets. Colorie chaque angle d'une couleur différente.

5 Retrouve la figure de chaque élève.



Rémi

Ma figure a 10 côtés.



Jade

Ma figure a 6 angles.



Lisa

Ma figure a 5 sommets.